

МИНИСТЕРСТВО НА ОБРАЗОВАНИЕТО И НАУКАТА

НАЦИОНАЛНА ОЛИМПИАДА ПО ИСТОРИЯ И ЦИВИЛИЗАЦИЯ ОБЛАСТЕН КРЪГ – 28.03.2009 г. – VII КЛАС, 9.00 ЧАСА

УКАЗАНИЯ

Уважаеми ученици,

Вашата работа на олимпиадата по история и цивилизация е писмена и анонимна.

В работния материал на олимпиадата са включени:

- 40 тестови задачи, от които 30 задачи със затворен отговор и 10 с отворен;
- писмен текст – отговор на исторически въпрос, който не трябва да надвишава 2 ръкописни страници.

Пропуснат или сгрешен отговор се оценява с 0 (нула) точки.

Максималният брой точки е **100**, който съответства на оценка **Отличен 6.00**.

Задачата за създаване на текст по исторически въпрос се оценява с общ брой **25** точки.

За задача със затворен отговор отбележете буквата с верния отговор, като я зачертаете с „X”.

Не се допускат задрасквания и поправки.

По време на работа може да пишете само със **син** химикал.

По време на изпита **не може** да ползвате допълнителни помагала или пособия, освен предоставената ви изпитна бланка.

Време за работа – 3 астрономически часа.

Пожелаваме ви успешна работа!

ПЪРВА ЧАСТ

А. ЗАДАЧИ С ИЗБИРАЕМ ОТГОВОР

1. Къде в българските земи са разкрити най-ранните следи от човешко присъствие?

- А) в пещерата Бачо Киро
- Б) в селищната могила при с.Караново
- В) в некропола край Варна
- Г) в местността Мечи Кладенец край Стара Загора

2. Спарта е основана през:

- А) XI в.пр.Хр.
- Б) X в.пр.Хр.
- В) VIII в.пр.Хр.
- Г) IX в.пр.Хр.

3. Важна характеристика на Микенската цивилизация е:

- А) символ на властта е двойната брадва лабрис
- Б) наличието на силен флот и добри търговци
- В) богати градове, които не са опасани с крепостни стени
- Г) царската власт не е абсолютна и се нуждае от доказване

4. Кое от посочените места в България дава най-ясна представа за обществото през халколита?

- А) селищната могила при с.Караново
- Б) съкровището от Дуранкулак
- В) некрополът край Варненското езеро
- Г) праисторическите селища край Стара Загора

5. Кое НЕ Е ПРИЧИНА за Великата колонизация (VIII – VI в.пр.Хр.):

- А) липсата на достатъчно земя
- Б) спасението от политическите врагове
- В) превъзходството на персите в Егейско море
- Г) обедняването на едни и забогатяването на други хора

6. Кое твърдение за древен Египет е вярно?

- А) началото на обединения Египет било поставено през VI хил.пр.Хр.
- Б) пирамидите били дворци на фараоните
- В) египтяните използвали йероглифите
- Г) в египетското общество най-многобройна била прослойката на жреците

7. Древноизточната държава, която възникнала най-рано е:

- А) Акад
- Б) Асирия
- В) Хетското царство
- Г) Шумер

8. Йехова е бог, почитан от:

- А) евреите
- Б) хетите
- В) персите
- Г) шумерите

9. Основна причина за Гръко-персийските войни е:

- А) издигането на Атина над останалите полиси в Елада
- Б) въстанието на йонийските градове срещу персите
- В) налагането властта на Персия над траките
- Г) борбата за надмощие в Средиземноморието между Персия и Елада

10. Своя „Златен век” Атина изживява при управлението на:

- А) Леонид
- Б) Перикъл
- В) Алкивиад
- Г) Клистен

11. Гръко-персийските войни имат за основна последица:

- А) западането на Персийската империя
- Б) издигането на Македонската държава
- В) налагане властта на Персия на Балканите
- Г) издигането на Спарта в елинския свят

12. Спартанското общество е наречено „общество на равните”, защото:

- А) всички са равни пред законите, приети от Еклесията
- Б) имат еднакво облекло и получават еднакво образование
- В) имат равни участъци земя, хранели се заедно и не употребявали златни монети
- Г) всички мъже участват в армията като хоплити

13. Величествените пирамиди в Египет са описани още в древността от:

- А) Хипократ
- Б) Филон
- В) Хезиод
- Г) Херодот

14. Пелопонеската война завършва с поражението на:

- А) Спарта
- Б) Пелопонеския съюз
- В) Атина
- Г) Тива

15. Персийското царство било създадено през:

- А) V в.пр.Хр.
- Б) III в.пр.Хр.
- В) VI в.пр.Хр.

Г) IV в. пр. Хр.

16. Целта на Делоския морски съюз е да:

А) изгради боеспособен флот, за да се противопостави на Атина

Б) контролира Егейско море и да се противопостави на Спарта

В) изгради боеспособна армия за война със Спарта

Г) да се противопостави на Персия

17. Мистериите са:

А) театрални постановки

Б) събрания на гражданите

В) религиозни тържества

Г) състезания

18. В светилището в Делфи, отговорите на бог Аполон предавала прочутата пророчица:

А) Алкмена

Б) Пития

В) Йо

Г) Европа

19. Кое НЕ Е причина за Пелопонеската война:

А) издигането на Атина и засилването на нейната мощ

Б) амбициите за влияние в елинския свят

В) различията в политическото управление на Атина и Спарта

Г) стремежът за обединяване на разпокъсания елински свят от македонските царе

20. Първите съвременни Олимпийски игри се провеждат през:

А) 1776 г.

Б) 1896 г.

В) 1900 г.

Г) 1878 г.

21. Едно от най-големите поражения, които атинският флот нанесъл на персите по време на Гръко-персийските войни е при остров:

А) Саламин

Б) Родос

В) Тасос

Г) Крит

22. „Агората” в Древна Елада е:

А) главен площад на полиса

Б) централната сграда на Акропола

В) пазар в покрайнините на града

Г) място за жертвоприношения

23. Кое твърдение за политиката на Александър Македонски НЕ е вярно?

А) сродявал приближените си с местни жени от завладените страни и народи

Б) в завладените области назначавал на ръководни длъжности само македонци

В) стремял се да обедини и слее елинските и източните традиции

Г) по време на похода си на Изток основал много градове, които кръстил на свое име

24. За Платон модел на управление на „идеалната държава” е:

А) олигархичното управление

Б) управление, което се осъществява от мъдри, образовани мъже

В) управление, за което е допустимо и демагогията

Г) управлението на силата

25. Съпругата на бога на подземното царство в гръцката митология е:

- А) Пенелопа
- Б) Персефона
- В) Пития
- Г) Пандора

26. Гръцките полиси в тракийския Херсонес са завладени от цар:

- А) Терес
- Б) Севт I
- В) Котис I
- Г) Керсеблепт

27. За кои от големите празници на атиняните, се отнася следното описание:

“Те се провеждали всяка година. Празнично шествие от млади момичета носело тъканата девет месеца дреха, с която се обличала статуята на богинята – закрилница на града. Извършвало се грандиозно жертвоприношение, със спортни състезания и музикални конкурси.”

- А) Театралните представления
- Б) Панатенеите
- В) Олимпийските игри
- Г) Дионисиевите празници

28. В какво се състои разликата между монархия и империя?

- А) империята обхваща един народ на обширна територия, а монархията – много народи
- Б) в империята липсва централна власт, докато в монархията тя е силна
- В) империята е населявана от различни народи, живеещи на огромна територия, а монархията обединява един народ
- Г) в монархията се насърчава развитието на търговските връзки, а в империята не

29. През 341 г.пр.Хр. земите на одрисите са завладени от:

- А) Дарий I
- Б) Ксеркс
- В) Александър Македонски
- Г) Филип II

30. В следния текст на Херодот за траките се съдържат сведения за:

„Като сядат около новороденото, роднините го оплакват колко много злини трябва да претърпи, като се е родил вече... А умрелия заравят в земята, веселейки се, и нареждат от колко много злини се е отървал.”

- А) отношението на траките към живота и смъртта
- Б) вярата на траките в задгробния живот
- В) празненствата на траките
- Г) тракийските богове

Б. ЗАДАЧИ СЪС СВОБОДЕН ОТГОВОР

31. Свържете събитията с различните периоди на египетската държава: Старо царство; Средно царство; Ново царство:

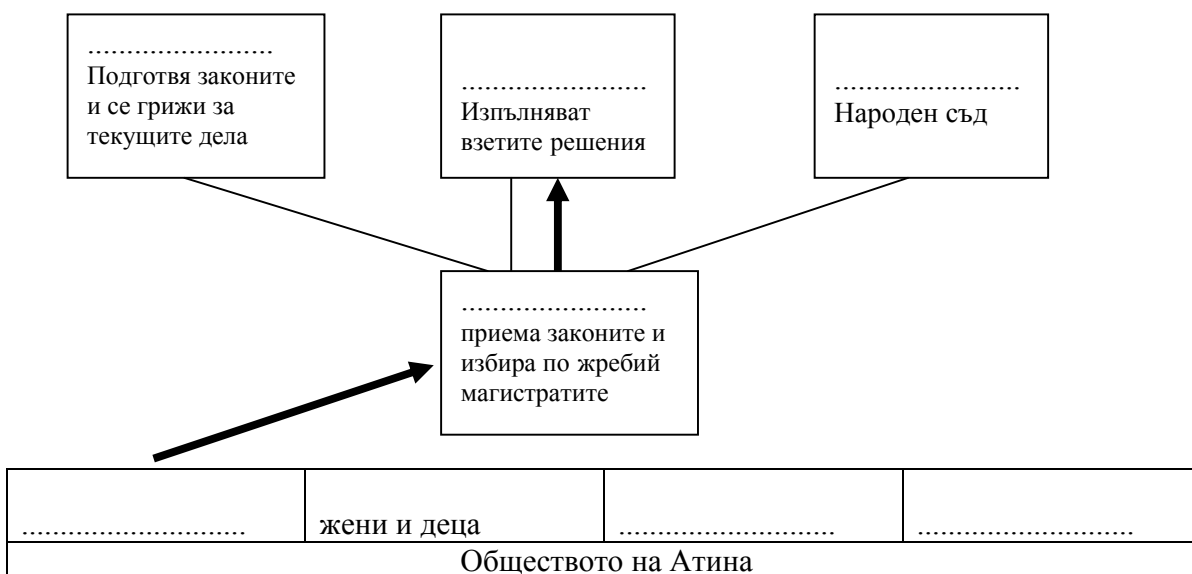
Събитие	Период
Нахлуването на хиксоите	
Религиозната реформа на Аменхотеп IV	
Построяването на големия сфинкс	
Завоеванията на Рамзес II	
Управлението на Тутанкамон	

Обединението на Долен и Горен Египет	
Управлението на Хатшепсут	

32. Дайте определение и конкретен пример за всяко едно от двете понятия. Обяснете връзката между тях.

- а) оракул.....
.....
.....
б) светилище.....
.....
.....

33. Попълнете липсващите елементи в схемата на управлението на Атина



34 От посочените понятия, подберете тези, които съответстват на дадените определения и ги запишете срещу тях: балсамация; мит; политеизъм; сфинкс; демокрация; олигархия; тирания; колонизация; йерархия; тотемизъм.

	Понятие	Определение
а)		разказ за приключения на богове и герои, в които хората намирали отговор и на много въпроси, които ги вълнували
б)		почитане на животно като родоначалник на племето или рода
в)		монументална скулптура с лъвско тяло и лице на човек
г)		форма на държавно устройство, установена по насилствен път и основаваща се на управлението на един човек
д)		форма на държавно управление в Древна Елада, при която всеки гражданин участва пряко в управлението на полиса
е)		процес на заселване на нови, чужди територии

35. Свържете името на законодателя/реформатора с неговия принос:

Законодател/ реформатор	буква	Принос
1. Аменхотеп		а) Издава първите писани закони в Атина, сурови и безмилостни, но еднакви за всички
2. Клистен		б) Въвежда реформа, според която имущественият ценз определя достъпа до властта
3. Ликург		в) Извършва религиозна реформа – налага вярата в един бог и в негова чест си променя името
4. Хамурапи		г) Създава модела на атинската демокрация; въвежда „остракизма“
5. Драконт		д) Създава основните институции за управление на Спарта
6. Солон		е) Издава законник с цел издигане авторитета на владетеля и осигуряване на реда в държавата, като се предвиждали сурови наказания

36. Прочете откъса от текста на древния автор и отговорете на въпросите след него:

„Филип пратил да поканят (за учител) най-прочутия и най-образован философ Аристотел.... (Александър) бил по природа любител на литературата и страстен читател. Смятал и често наричал „Илиада“ наръчник на войската добродетел.... едно нейно издание.... винаги лежало заедно с ножа под възглавницата му. Като почувствал нужда от книги по време на похода в Азия.... пратили му..... доста трагедии на Есхил, Софокъл, Еврипид....”

Из „Успоредни животописи, Плутарх“ (II в. пр.Хр.)

а) Кой бил учителят на Александър? Какво знаете за него?

.....

.....

б) От кои фрази става ясно, че Александър принадлежи на елинската култура?

.....

.....

.....

37. Отбележете с (X) сферата на научното познание, с която свързвате всяко едно от посочените имена:

Личност	Философия	История	Природни науки
Тукидит			
Аристарх			
Сократ			
Архимед			
Херодот			
Ератостен			
Платон			
Аристотел			
Питагор			

38. Като обърнете внимание на атрибутите и външността, разпознайте на коя от гръцките богини, принадлежи всяка от посочените статуи:



а)



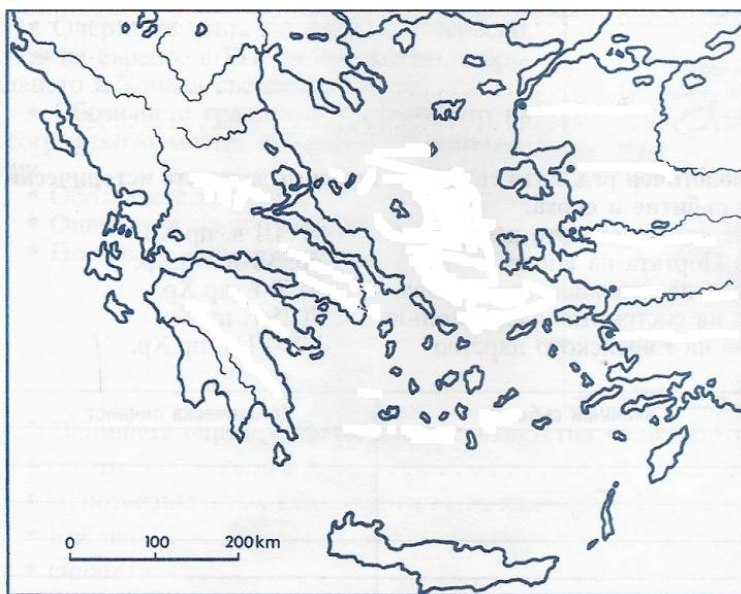
б)



в)

39. Изпълнете поставените задачи към дадената карта

а) Поставете заглавие на картата.....



б) Поставете на картата съответната цифра за големите региони на Древна Елада: **1.** Континентална Гърция; **2.** Островна Гърция; **3.** Малоазийска Гърция


в) Запишете имената на моретата

г) Поставете на картата съответната цифра на големите области: **4.** Атика, **5.** Пелопонес

д) Поставете на картата съответната цифра за градовете **6.** Микена, **7.** Троя и **8.** о.Крит

40. Конструирайте линия на времето и нанесете върху нея годините на: разцвета на Атина; началото на Одриското царство; управлението на Александър Македонски; периода на Гръко-персийските войни.

/бележка: - Запишете събитията под линията на времето./



ВТОРА ЧАСТ

Напишете в обем до 2 страници отговор на следния исторически въпрос:

Как възниква и се развива тракийската цивилизация?

При отговора вземете под внимание следните опори:

1. Сведения за траките, които се съдържат в съчиненията на Омир, Херодот, Тудикид, Страбон
2. Създаването на Одриската държава
3. Религията на древните траки
4. Тракийското изкуство - гробници и съкровища

БЛАГОДАРИМ ВИ ЗА УЧАСТИЕТО И СТАРАНИЕТО !

ПОПЪЛВА СЕ ОТ КВЕСТОРИТЕ

НАЧАЛО НА ОЛИМПИАДАТА:.....ч.

ИЗПИТНАТА РАБОТА Е ПРИЕТА В:.....ч.

.....

Име и фамилия на квесторът приел работата

.....

подпис

ПОПЪЛВА СЕ ОТ ОЦЕНИТЕЛИТЕ

ПЪРВИ ОЦЕНИТЕЛ:.....

Име и фамилия

.....

подпис

.....

брой точки

ВТОРИ ОЦЕНИТЕЛ:.....

Име и фамилия

.....

подпис

.....

брой точки

ОБЩ БРОЙ ТОЧКИ –
(първи+втори)/2

УЧЕНИКЪТ.....КЛАСИРА ЗА
НАЦИОНАЛНИЯ КРЪГ НА ОЛИМПИАДАТА